



(1) सदर प्रश्नपुस्तिकेत प्रश्न आहेत किंवा नाहीत याची खात्री करून घ्यावी. तसेच अन्य काही दोष आढळल्यास ही प्रश्नपुस्तिका समवेक्षकांकडून लगेच बदलून घ्यावी.

(2) आपला परीक्षा-क्रमांक ह्या चौकोनांत न विसरता बॉलपेनने लिहावा.

परीक्षा-क्रमांक									

केंद्राची संकेताक्षरे

शेवटचा अंक

(3) वर छापलेला प्रश्नपुस्तिका क्रमांक तुमच्या उत्तरपत्रिकेवर विशिष्ट जागी उत्तरपत्रिकेवरील सूचनेप्रमाणे न विसरता नमूद करावा.

(4) (अ) या प्रश्नपुस्तिकेतील प्रत्येक प्रश्नाला 4 पर्यायी उत्तरे सुचविली असून त्यांना 1, 2, 3 आणि 4 असे क्रमांक दिलेले आहेत. त्या चार उत्तरांपैकी सर्वात योग्य उत्तराचा क्रमांक उत्तरपत्रिकेवरील सूचनेप्रमाणे तुमच्या उत्तरपत्रिकेवर नमूद करावा. अशा प्रकारे उत्तरपत्रिकेवर उत्तरक्रमांक नमूद करताना तो संबंधित प्रश्नक्रमांकासमोर छायांकित करून दर्शविला जाईल याची काळजी घ्यावी. ह्याकरिता फक्त काळ्या शाईचे बॉलपेन वापरावे, पेन्सिल वा शाईचे पेन वापरू नये.

(ब) आयोगाने ज्या विषयासाठी मराठी बरोबर इंग्रजी माध्यम विहित केलेले आहे. त्या विषयाचा प्रत्येक प्रश्न मराठी बरोबर इंग्रजी भाषेत देखील छापण्यात आला आहे. त्यामधील इंग्रजीतील किंवा मराठीतील प्रश्नामध्ये मुद्रणदोषांमुळे अथवा अन्य कारणांमुळे विसंगती निर्माण झाल्याची शंका आल्यास, उमेदवाराने संबंधित प्रश्न पर्यायी भाषेतील प्रश्नाशी ताडून पहावा.

(5) सर्व प्रश्नांना समान गुण आहेत. यास्तव सर्व प्रश्नांची उत्तरे द्यावीत. घाईमुळे चुका होणार नाहीत याची दक्षता घेऊनच शक्य तितक्या वेगाने प्रश्न सोडवावेत. क्रमाने प्रश्न सोडविणे श्रेयस्कर आहे पण एखादा प्रश्न कठीण वाटल्यास त्यावर वेळ न घालविता पुढील प्रश्नाकडे वळावे. अशा प्रकारे शेवटच्या प्रश्नापर्यंत पोहोचल्यानंतर वेळ शिल्लक राहिल्यास कठीण म्हणून वगळलेल्या प्रश्नांकडे परतणे सोईस्कर ठरेल.

(6) उत्तरपत्रिकेत एकदा नमूद केलेले उत्तर खोडता येणार नाही. नमूद केलेले उत्तर खोडून नव्याने उत्तर दिल्यास ते तपासले जाणार नाही.

(7) प्रस्तुत परीक्षेच्या उत्तरपत्रिकांचे मूल्यांकन करताना उमेदवाराच्या उत्तरपत्रिकेतील योग्य उत्तरांनाच गुण दिले जातील. तसेच “उमेदवाराने वस्तुनिष्ठ बहुपर्यायी स्वरूपाच्या प्रश्नांची दिलेल्या चार उत्तरांपैकी सर्वात योग्य उत्तरेच उत्तरपत्रिकेत नमूद करावीत. अन्यथा त्यांच्या उत्तरपत्रिकेत सोडविलेल्या प्रत्येक चुकीच्या उत्तरांसाठी एका प्रश्नाचे 25% किंवा 1/4 गुण वजा करण्यात येतील”.

### ताकीद

ह्या प्रश्नपत्रिकेसाठी आयोगाने विहित केलेली वेळ संपेपर्यंत ही प्रश्नपुस्तिका आयोगाची मालमत्ता असून ती परीक्षकक्षात उमेदवाराला परीक्षेसाठी वापरण्यास देण्यात येत आहे. ही वेळ संपेपर्यंत सदर प्रश्नपुस्तिकेची प्रत/प्रती, किंवा सदर प्रश्नपुस्तिकेतील काही आशय कोणत्याही स्वरूपात प्रत्यक्ष वा अप्रत्यक्षपणे कोणत्याही व्यक्तीस पुरविणे, तसेच प्रसिद्ध करणे हा गुन्हा असून अशी कृती करणाऱ्या व्यक्तीवर शासनाने जारी केलेल्या “परीक्षांमध्ये होणाऱ्या गैरप्रकारांना प्रतिबंध करण्याबाबतचा अधिनियम-82” यातील तरतुदीनुसार तसेच प्रचलित कायद्याच्या तरतुदीनुसार कारवाई करण्यात येईल व दोषी व्यक्ती कमाल एक वर्षाच्या कारावासाच्या आणि/किंवा रुपये एक हजार रकमेच्या दंडाच्या शिक्षेस पात्र होईल.

तसेच ह्या प्रश्नपत्रिकेसाठी विहित केलेली वेळ संपण्याआधी ही प्रश्नपुस्तिका अनधिकृतपणे बाळगणे हा सुद्धा गुन्हा असून तसे करणारी व्यक्ती आयोगाच्या कर्मचारीवृंदापैकी, तसेच परीक्षेच्या पर्यवेक्षकीयवृंदापैकी असली तरीही अशा व्यक्तीविरुद्ध उक्त अधिनियमानुसार कारवाई करण्यात येईल व दोषी व्यक्ती शिक्षेस पात्र होईल.

पुढील सूचना प्रश्नपुस्तिकेच्या अंतिम पृष्ठावर पहा



पर्यवेक्षकांच्या सूचनेविना हे सील उघडू नये



1. भारत आणि पाकिस्तान यांच्यातील 'सिंधू पाणी करार - 1960' नुसार खालीलपैकी कोणत्या नद्यांच्या पाण्यावर भारतास पूर्ण अधिकार आहे ?

- |                         |                         |
|-------------------------|-------------------------|
| (1) सिंधू, चिनाब व झेलम | (2) रावी, बियास व सतलज  |
| (3) झेलम, सतलज व चिनाब  | (4) चिनाब, बियास व झेलम |

As per the 'Indus Water Treaty - 1960' between India and Pakistan, on which rivers water does India have absolute claim ?

- |                               |                             |
|-------------------------------|-----------------------------|
| (1) Indus, Chenab and Jhelum  | (2) Ravi, Beas and Sutlej   |
| (3) Jhelum, Sutlej and Chenab | (4) Chenab, Beas and Jhelum |

2. खालीलपैकी कोणते लोह खनिज सर्वोत्तम दर्जाचे आहे ?

- |                |                   |
|----------------|-------------------|
| (1) हॅमेटाइट   | (2) लिमोनाईट      |
| (3) मॅग्नेटाइट | (4) वरीलपैकी नाही |

Which of the following is the best quality iron ore ?

- |               |                       |
|---------------|-----------------------|
| (1) Hematite  | (2) Limonite          |
| (3) Magnetite | (4) None of the above |

3. भारतातील खालील खिंडींचा पश्चिमेकडून पूर्वेकडे बरोबर क्रम लावा :

- (1) मानाखिंड, सिक्किलाखिंड, नितीखिंड, झोजिलाखिंड
- (2) झोजिलाखिंड, सिक्किलाखिंड, मानाखिंड, नितीखिंड
- (3) सिक्किलाखिंड, नितीखिंड, मानाखिंड, झोजिलाखिंड
- (4) नितीखिंड, मानाखिंड, झोजिलाखिंड, सिक्किलाखिंड

Correctly arrange the following passes in India from west to east :

- (1) Mana Pass, Shipkila Pass, Niti Pass, Zojila Pass
- (2) Zojila Pass, Shipkila Pass, Mana Pass, Niti Pass
- (3) Shipkila Pass, Niti Pass, Mana Pass, Zojila Pass
- (4) Niti Pass, Mana Pass, Zojila Pass, Shipkila Pass

4. खारट आणि क्षारीय मृदेस दुसऱ्या नावानेसुद्धा ओळखतात. खालीलपैकी अचूक पर्याय कोणता ?

- |                            |                                      |
|----------------------------|--------------------------------------|
| (1) वाळवंटीय मृदा          | (2) चोपन मृदा                        |
| (3) पाणथळ आणि दलदलीची मृदा | (4) चेस्टनट किंवा राखाडी तपकिरी मृदा |

Saline and Alkaline soils are also known by another name. Which is the correct option given below ?

- |                          |                                 |
|--------------------------|---------------------------------|
| (1) Desert soil          | (2) Chopan soil                 |
| (3) Wet and Marshy soils | (4) Chestnut or grey brown soil |

5. पेंच व्याघ्र राखीव क्षेत्र खालीलपैकी कोणत्या राज्याशी निगडीत आहे ?

- (1) महाराष्ट्र — छत्तीसगढ
- (2) महाराष्ट्र — मध्य प्रदेश
- (3) मध्य प्रदेश — छत्तीसगढ
- (4) महाराष्ट्र — कर्नाटक

Which of the following States are associated with Pench Tiger Reserve ?

- (1) Maharashtra — Chhattisgarh
- (2) Maharashtra — Madhya Pradesh
- (3) Madhya Pradesh — Chhattisgarh
- (4) Maharashtra — Karnataka

6. 2001 च्या जनगणनेनुसार, भारतातील अनुसूचित जमातीची सर्वाधिक लोकसंख्या असलेले राज्य.

- |              |                 |
|--------------|-----------------|
| (1) ओडिशा    | (2) महाराष्ट्र  |
| (3) राजस्थान | (4) मध्य प्रदेश |

As per 2001 Census, the following State has the highest population of Scheduled Tribes in India.

- |               |                    |
|---------------|--------------------|
| (1) Odisha    | (2) Maharashtra    |
| (3) Rajasthan | (4) Madhya Pradesh |

7. महाराष्ट्रातील 2011 च्या जनगणनेनुसार लोकसंख्येच्या घनतेनुसार पहिले पाच जिल्हे कोणते ?

- (1) मुंबई उपनगर, ठाणे, मुंबई शहर, कोल्हापूर, पुणे
- (2) मुंबई शहर, मुंबई उपनगर, पुणे, कोल्हापूर, ठाणे
- (3) मुंबई उपनगर, मुंबई शहर, ठाणे, पुणे, कोल्हापूर
- (4) ठाणे, मुंबई शहर, कोल्हापूर, पुणे, मुंबई उपनगर

As per 2011 Census, which are the first five districts according to population density in Maharashtra ?

- (1) Mumbai Suburb, Thane, Mumbai City, Kolhapur, Pune
- (2) Mumbai City, Mumbai Suburb, Pune, Kolhapur, Thane
- (3) Mumbai Suburb, Mumbai City, Thane, Pune, Kolhapur
- (4) Thane, Mumbai City, Kolhapur, Pune, Mumbai Suburb

8. जनगणना 2001 आणि 2011 प्रमाणे महाराष्ट्र राज्याच्या लिंग गुणोत्तरामध्ये किती फरक आहे ?  
 (1) 09 (2) 90 (3) 19 (4) 29

What is the difference in sex ratio of Maharashtra State as per Census 2001 and 2011 ?

- (1) 09 (2) 90 (3) 19 (4) 29

9. खालील विधाने पहा :

- अ. मावळ भाग पर्जन्य छायेच्या प्रदेशात येत नाही.  
 ब. मावळ क्षेत्र हवामानामुळे ओळखला जातो.  
 क. कशेली घाट पोलादपूर आणि महाबळेश्वर यांना जोडतो.

पर्यायी उत्तरे :

- (1) फक्त विधान अ बरोबर आहे (2) फक्त विधान ब बरोबर आहे  
 (3) विधान अ आणि ब बरोबर आहेत (4) विधान ब आणि क बरोबर आहेत

Observe the following statements :

- a. Maval section does not come in rain shadow area.  
 b. Maval area is known for its climate.  
 c. Kasheli Ghat connects Poladpur and Mahabaleshwar.

**Answer options :**

- (1) Only statement a is correct (2) Only statement b is correct  
 (3) Statements a and b are correct (4) Statements b and c are correct

10. 'दरकेसा टेकड्या' महाराष्ट्राच्या कोणत्या जिल्ह्यात आढळतात ?

- (1) नागपूर (2) चंद्रपूर (3) गोंदिया (4) गडचिरोली

In which district of Maharashtra are the 'Darekasa Hills' located ?

- (1) Nagpur (2) Chandrapur (3) Gondia (4) Gadchiroli

11. 2011 च्या जनगणनेच्या अनुसार गडचिरोली जिल्ह्याची 'लोकसंख्येची घनता' काय आहे ?

- (1) 163 चौ.कि.मी. (2) 193 चौ.कि.मी.  
 (3) 74 चौ.कि.मी. (4) 93 चौ.कि.मी.

As per the Census 2011, what is the 'Population density' of Gadchiroli district ?

- (1) 163 sq.km (2) 193 sq.km  
 (3) 74 sq.km (4) 93 sq.km

12. खालील विधाने पहा :

- अ. वेरुळ लेणी औरंगाबाद जिल्हयात आहे.  
 ब. चांभार लेणी पुणे जिल्हयात आहे.  
 क. चिखलदरा थंड हवेचे ठिकाण रायगड जिल्हयात आहे.  
 ड. गौताळा राष्ट्रीय उद्यान जळगाव जिल्हयात आहे.  
 वरीलपैकी कोणता/ते विधान/ने बरोबर आहे/त ?

- (1) फक्त अ विधान बरोबर आहे (2) फक्त ब व क विधाने बरोबर आहेत  
 (3) फक्त अ व ड विधाने बरोबर आहेत (4) वरील सर्व विधाने बरोबर आहेत

Observe the following statements :

- a. Verul caves is in Aurangabad district.  
 b. Chambhar caves is in Pune district.  
 c. Chikhaldara hill station is in Raigad district.  
 d. Gautala National Park is in Jalgaon district.

Which of the above statements is/are correct ?

- (1) Only a statement is correct (2) Only b and c statements are correct  
 (3) Only a and d statements are correct (4) All the above statements are correct

13. खालील जोड्या लावा :

स्तंभ I (औष्णिक विजकेंद्र)		स्तंभ II (जिल्हा/ठिकाण)	
अ. चोला		I. मुंबई	
ब. तुर्भे		II. अकोला	
क. फेकरी		III. ठाणे	
ड. पारस		IV. भुसावळ	

पर्यायी उत्तरे :

	अ	ब	क	ड
(1)	III	IV	I	II
(2)	III	I	II	IV
(3)	III	I	IV	II
(4)	II	IV	I	III

Match the following :

Column I (Thermal Power House)		Column II (District)	
a. Chola		I. Mumbai	
b. Turbhe		II. Akola	
c. Fekari		III. Thane	
d. Paras		IV. Bhusawal	

Answer options :

	a	b	c	d
(1)	III	IV	I	II
(2)	III	I	II	IV
(3)	III	I	IV	II
(4)	II	IV	I	III

14. महाराष्ट्रातील घाटांचा कोणता क्रम उत्तरेकडून दक्षिणेकडे बरोबर आहे ?

- (1) थळघाट, कुंभार्लीघाट, आंबाघाट, आंबोलीघाट
- (2) आंबोलीघाट, अंबाघाट, कुंभार्लीघाट, थळघाट
- (3) थळघाट, कुंभार्लीघाट, आंबोलीघाट, आंबाघाट
- (4) थळघाट, आंबाघाट, आंबोलीघाट, कुंभार्लीघाट

Which of the following sequence of Ghats in Maharashtra from North to South is correct ?

- (1) Thal Ghat, Kumbharli Ghat, Amba Ghat, Amboli Ghat
- (2) Amboli Ghat, Amba Ghat, Kumbharli Ghat, Thal Ghat
- (3) Thal Ghat, Kumbharli Ghat, Amboli Ghat, Amba Ghat
- (4) Thal Ghat, Amba Ghat, Amboli Ghat, Kumbharli Ghat

15. तापी – पूर्णाखोऱ्यातील नद्यांचा खालीलपैकी कोणता क्रम उत्तरेकडून दक्षिणेकडे बरोबर आहे ?

- (1) गिरणा, बोरी, पांझरा, बुराई, गोमती
- (2) गोमती, बुराई, पांझरा, बोरी, गिरणा
- (3) गोमती, बुराई, गिरणा, बोरी, पांझरा
- (4) गोमती, पांझरा, गिरणा, बुराई, बोरी

In Tapi – Purna river basin, which of the following sequence of rivers from North to South is correct ?

- (1) Girna, Bori, Panzara, Burai, Gomati
- (2) Gomati, Burai, Panzara, Bori, Girna
- (3) Gomati, Burai, Girna, Bori, Panzara
- (4) Gomati, Panzara, Girna, Burai, Bori

16. हरितक्रांतीनंतर \_\_\_\_\_ हे सर्वात जास्त उत्पादन वाढ दर्शविणारे प्रमुख अन्नधान्य पीक आहे.

- (1) तांदूळ (2) बाजरी (3) मका (4) गहू

\_\_\_\_\_ has the major foodgrain crop production recorded as highest growth after green revolution.

- (1) Rice (2) Bajra (3) Maize (4) Wheat

17. राष्ट्रीय ग्रामीण रोजगार हमी कायदा (NREGA) \_\_\_\_\_ मध्ये अधिनियमित झाला.

- (1) आक्टोबर 2001 (2) आक्टोबर 2002  
(3) सप्टेंबर 2005 (4) सप्टेंबर 2011

The National Rural Employment Guarantee Act (NREGA) was enacted in \_\_\_\_\_.

- (1) October 2001 (2) October 2002  
(3) September 2005 (4) September 2011

18. खालीलपैकी कोणती केंद्र सरकारची थकीत देयता **नाही** ?

- (1) अंतर्गत कर्जे (2) बाजार कर्जे  
(3) कोषागार विपत्रे (4) विदेशी मदत

Which of the following is **not** an outstanding liability of Central Government ?

- (1) Internal debt (2) Market loans  
(3) Treasury bills (4) Foreign aid

19. चौदाव्या वित्त आयोगाने राजकोषीय जबाबदारी आणि अंदाजपत्रक व्यवस्थापन (FRBM) कायद्याला खालीलपैकी कोणता पर्याय सुचविला ?

- (1) वित्तीय एकत्रीकरण निधी  
(2) वित्तीय तूट  
(3) महसुल आणि कर्ज व्यवस्थापन  
(4) कर्ज मर्यादा आणि वित्तीय जबाबदारी कायदा

Which of the following has been suggested as a substitute for the Fiscal Responsibility and Budget Management (FRBM) Act by the Fourteenth Finance Commission ?

- (1) Fiscal Consolidation Fund  
(2) Fiscal Deficit  
(3) Revenue and Debt Management  
(4) Debt Ceiling and Fiscal Responsibility Legislation

20. भारत हा जगातील सर्वात मोठा \_\_\_\_\_ उत्पादक देश आहे.  
 (1) ताग (2) लोह (3) सिमेंट (4) साखर

India is the world's largest producer of \_\_\_\_\_ .  
 (1) Jute (2) Steel (3) Cement (4) Sugar

21. 1950 - 51 ते 2013 - 14 या काळात भारतातील स्थूल राष्ट्रीय उत्पादनातील द्वितीय क्षेत्राचा हिस्सा \_\_\_\_\_ टक्क्यांनी वाढला आहे.

- (1) 16.6 ते 26.2 (2) 30.6 ते 59.2  
 (3) 16.9 ते 36.2 (4) 15.6 ते 36.2

The share of secondary sector in GDP in India from 1950 - 51 to 2013 - 14 has increased by \_\_\_\_\_ per cent.

- (1) 16.6 to 26.2 (2) 30.6 to 59.2  
 (3) 16.9 to 36.2 (4) 15.6 to 36.2

22. तेंडुलकर समितीनुसार 2011 - 12 मध्ये भारतात दारिद्र्य रेषेखालील लोकसंख्येचे शेकडा प्रमाण \_\_\_\_\_ होते.

- (1) 21.9% (2) 27.5% (3) 37.2% (4) 42.9%

According to Tendulkar Committee, the total percentage of population in India below the poverty line in 2011 - 12 was \_\_\_\_\_ .

- (1) 21.9% (2) 27.5% (3) 37.2% (4) 42.9%

23. राष्ट्रीय लोकसंख्या धोरण 2000 चे तात्कालिक (ताबडतोबीचे) उद्दीष्ट हे होते

- अ. आरोग्याच्या पायाभूत सुविधांच्या गरजांची पूर्ती करणे व मूलभूत प्रजनन आरोग्य सुविधा उपलब्ध करणे.  
 ब. एकूण प्रजनन दर हा बदली दराच्या पातळी इतका कमी करणे.  
 क. सर्व मुलांचे (बालकांचे) सार्वत्रिक लसीकरण पूर्ण करणे.

पर्यायी उत्तरे :

- (1) फक्त अ आणि ब (2) फक्त क (3) फक्त ब (4) फक्त अ

The immediate objective of the National Population Policy 2000 was

- a. to meet the needs of health infrastructure and to provide basic reproductive health care.  
 b. to lower the total fertility rate to the replacement level.  
 c. to achieve universal immunization of children.

**Answer options :**

- (1) Only a and b (2) Only c (3) Only b (4) Only a



24. खालीलपैकी कोणत्या महत्त्वाच्या तत्वावर आधारित विश्व व्यापार संघटनेचे करार आहेत ?

- (1) भेदभाव नाही (2) सर्वात अनुकूल राष्ट्र  
(3) राष्ट्रीय वागणूक (4) वरीलपैकी एकही नाही

The WTO agreements are based on which of the following important principle ?

- (1) Non-discrimination (2) Most-favoured nation  
(3) National treatment (4) None of the above

25. खालील विधाने विचारात घ्या :

अ. राष्ट्रीय कृषी विकास योजना ही अकराव्या पंचवार्षिक योजनेच्या काळात सुरू करण्यात आली.

ब. समाकालित (एकात्मिक/एकत्रित) फलोद्यान विकास उपक्रम बाराव्या पंचवार्षिक योजनेच्या काळात सुरू केला गेला.

क. राष्ट्रीय अन्न सुरक्षा उपक्रम हा सन 2009 – 10 मध्ये सुरू करण्यात आला.

वरीलपैकी कुठले/ली विधान/ने चूक आहे/त ?

- (1) तिन्ही विधाने चूक आहेत (2) फक्त ब  
(3) फक्त क (4) फक्त अ

Consider the following statements :

a. Rashtriya Krishi Vikas Yojana was launched during the 11<sup>th</sup> Five Year Plan.

b. The Mission for Integrated Development of Horticulture was launched during the 12<sup>th</sup> Five Year Plan.

c. National Food Security Mission was launched in 2009 – 10.

Which of the above statements is/are *incorrect* ?

- (1) All the three are incorrect (2) Only b  
(3) Only c (4) Only a

26. सन 2018 – 19 मध्ये भारतातील निर्यात उत्पन्नात \_\_\_\_\_ क्षेत्राचा हिस्सा सर्वाधिक आहे.

- (1) ताग वस्तू (2) तयार कपडे  
(3) अभियांत्रिकी वस्तू (4) रत्ने आणि दागिने

\_\_\_\_\_ occupied the first place in India's export earnings in 2018 – 19.

- (1) Jute garments (2) Readymade garments  
(3) Engineering goods (4) Gems and Jewellery

27. खालीलपैकी कोणता एक भारत निर्माण कार्यक्रमाचा भाग *नाही* ?

- (1) जलसिंचन (2) ग्रामीण विद्युतीकरण  
(3) ग्रामीण भागात शाळा (4) ग्रामीण रस्ते

Which one of the following is *not* a part of Bharat Nirman Programme ?

- (1) Irrigation (2) Rural electrification  
(3) Schools in rural areas (4) Rural roads

28. पेमेंट बँकेची प्रमुख वैशिष्ट्ये \_\_\_\_\_ ही आहेत. योग्य वाक्य निवडा.

- अ. प्रती व्यक्ती ₹ 1 लाख पर्यंत ठेवी स्विकारणे  
 ब. ए.टी.एम. व डेबीट कार्ड देण्यास परवानगी  
 क. ए.टी.एम. कार्ड देण्यास परवानगी  
 ड. कोणत्याही स्वरूपात कर्ज देता येणार नाही

पर्यायी उत्तरे :

- (1) फक्त अ, क आणि ड (2) फक्त अ, ब आणि क  
 (3) फक्त ब, क आणि ड (4) फक्त अ, ब आणि ड

The main features of Payment Banks are \_\_\_\_\_. Choose the correct sentences.

- a. to accept deposits upto ₹ 1 lakh per individual  
 b. to allow the use of ATM and debit cards  
 c. to allow the use of ATM  
 d. not to lend in any form

@Dream-Adhikan

Answer options :

- (1) Only a, c and d (2) Only a, b and c  
 (3) Only b, c and d (4) Only a, b and d

29. रंगराजन कमिटी (2014) नुसार सन 2011 – 12 साठी, ग्रामीण व शहरी भागासाठी दारिद्र्यरेषा व्याख्या ही दरडोई ₹ \_\_\_\_\_ अशी निश्चित करण्यात आली.

- (1) 32 आणि 47 (2) 32 आणि 67  
 (3) 32 आणि 87 (4) 31 आणि 97

As per Rangarajan Committee (2014) defined poverty line for 2011 – 12 for rural and urban areas per capita is ₹ \_\_\_\_\_.

- (1) 32 and 47 (2) 32 and 67  
 (3) 32 and 87 (4) 31 and 97

30. ऑक्सफॅम अहवाल 2018 नुसार भारतातील सर्वात श्रीमंत 1 टक्के लोकांचा राष्ट्रीय उत्पन्नातील हिस्सा \_\_\_\_\_ टक्के आहे.

- (1) 41 (2) 35  
 (3) 73 (4) 83

The Oxfam Report 2018, says that the richest 1 per cent of the people are generating \_\_\_\_\_ per cent share of National Income in India.

- (1) 41 (2) 35  
 (3) 73 (4) 83

A14

12

31. पृथ्वीवरून विविध ताऱ्यांची अंतरे निश्चित करण्यासाठी कोणती पद्धत वापरतात ?  
 (1) गुरुत्वाकर्षणीय पद्धत (2) खगोलीय पराशर पद्धत  
 (3) समांतर पद्धत (4) थेट पद्धत

Which method is used to determine the distance of different stars from the Earth ?  
 (1) Gravitational method (2) Parallax method  
 (3) Parallel method (4) Direct method

32. सोलार सेलचे (सौर घट) कार्य \_\_\_\_\_ वर आधारित आहे.  
 (1) स्टार्क इफेक्ट (2) कुलोम्ब इफेक्ट  
 (3) झीमन इफेक्ट (4) फोटोवोल्टाईक इफेक्ट

Working of a Solar cell is based on \_\_\_\_\_  
 (1) Stark effect (2) Coulomb effect  
 (3) Zeeman effect (4) Photovoltaic effect

33. खगोलशास्त्रीय समस्येचे निराकरण करण्यासाठी बीजगणिता चा वापर सर्वात आधी करणारा कोण होता ?  
 (1) भास्कर (2) ब्रम्हगुप्ता  
 (3) आर्यभट्ट (4) यापैकी नाही

Who was the earliest to use algebra to solve astronomical problems ?  
 (1) Bhaskara (2) Brahmagupta  
 (3) Arybhata (4) None of the above

34. कॉपरच्या जर्मन सिल्व्हर धातुमिश्रणात \_\_\_\_\_ असते.  
 (1) Cu, Zn, Ag (2) Cu, Zn, Ni  
 (3) Cu, Ni, Ag (4) Cu, Zn, Al

The copper alloy German Silver contains \_\_\_\_\_  
 (1) Cu, Zn, Ag (2) Cu, Zn, Ni  
 (3) Cu, Ni, Ag (4) Cu, Zn, Al

35. स्फटिकासारख्या पदार्थांना  
 अ. निश्चित भौमितिक रचना असते.  
 ब. निश्चित द्रवीभवन बिंदू असतो.  
 क. दिशानुवर्ती गुणधर्म असतात.

पर्यायी उत्तरे :

- (1) अ आणि ब बरोबर आहेत (2) ब आणि क बरोबर आहेत  
 (3) अ आणि क बरोबर आहेत (4) वरील सर्व बरोबर आहेत

A crystalline solid has  
 a. definite geometry.  
 b. sharp melting point.  
 c. anisotropic property.

Answer options :

- (1) a and b is correct (2) b and c is correct  
 (3) a and c is correct (4) All of the above are correct

कच्च्या कामासाठी जागा / SPACE FOR ROUGH WORK

36. मोसले प्रमाणे, आवर्त सारणीतील मुलद्रव्यांची रचना \_\_\_\_\_ च्या आधारे आहे.

- (1) अणुचे वजन (2) अणुचे वस्तुमान  
(3) अणुचा क्रमांक (4) अणुचे आकारमान

According to Moseley, the basis for the periodic arrangement of elements is \_\_\_\_\_.

- (1) Atomic weight (2) Atomic mass  
(3) Atomic number (4) Atomic volume

37. आधुनिक योजनेनुसार वर्गीकरणाचे पाच किंगडम खालीलप्रमाणे

- अ. प्रोटिस्टा, फंजाय, मॅमेलीया, अॅनेलीडा, प्लांटी  
ब. मोनेरा, प्रोटिस्टा, फंजाय, प्लांटी, अॅनिमेलीया  
क. प्रोटिस्टा, फंजाय, प्लांटी, पोरीफेरा, अॅनिमेलीया  
ड. मोनेरा, फंजाय, मॅमेलीया, प्लांटी, अॅनिमेलीया  
वरीलपैकी कोणता पर्याय बरोबर आहे ?

- (1) फक्त क (2) फक्त ब (3) फक्त अ (4) फक्त ड

The five kingdoms under the recent scheme of classification are

- a. Protista, Fungi, Mammalia, Annelida, Plantae  
b. Monera, Protista, Fungi, Plantae, Animalia  
c. Protista, Fungi, Plantae, Porifera, Animalia  
d. Monera, Fungi, Mammalia, Plantae, Animalia

Which of the option given above is correct ?

- (1) Only c (2) Only b (3) Only a (4) Only d

38. मलेरियाच्या तापात थंडी वाजून ताप येणे आणि तीन चार दिवसांनी पुन्हा पुन्हा ताप येणे यासाठी शरीरात \_\_\_\_\_ हा विषारी पदार्थ दिसून येतो.

- (1) इंटरफेरॉन (2) हिमोजॉईन  
(3) हिरुडिन (4) कोलोस्ट्रम

A toxic substance responsible for chills and high fever recurring every three to four days in malaria fever is due to

- (1) Interferon (2) Hemozoin  
(3) Hirudin (4) Colostrum

39. "आफ्रिकन स्लिपींग सिकनेस" हा आजार प्रामुख्याने खालीलपैकी कोणत्या परजीवी मुळे होतो ?

- (1) ट्रॅपेनोसोमा (2) पॅरामीशीअम  
(3) मच्छर (4) पट्टकृमी (टेपवर्म)

The disease "African Sleeping Sickness" is caused by which of the following parasite ?

- (1) Trypanosoma (2) Paramoecium  
(3) Mosquito (4) Tapeworm

40. शैवाल आणि बुरशीचा समावेश खालीलपैकी कोणत्या गटात होतो ?

- (1) जिम्नोस्पर्म (2) थॅलोफाइट्स  
(3) अँजिओस्पर्म (4) ब्रायोफाइट्स

Algae and fungi are classified in which of the following groups ?

- (1) Gymnosperms (2) Thallophytes  
(3) Angiosperms (4) Bryophytes

41. खालीलपैकी कोणत्या रोगामुळे झाडांच्या पानातील क्लोरोफिल हा घटक उच्चाने पाने आकुचन पावतात ?

- (1) मोझॅयिक डिजीज ऑफ टोबॅको (2) सायट्रस कॅंकर  
(3) स्मट ऑफ जवार (4) रायझोक्टोनिया

In which of the following disease of plants does chlorophyll of the leaves get destroyed and the leaves shrink ?

- (1) Mosaic disease of tobacco (2) Citrus canker  
(3) Smut of jowar (4) Rhizoctonia

42. खालीलपैकी कोणते जैविक खत भातशेती साठी वापरतात ?

- (1) लाल शैवाल (2) तपकिरी शैवाल  
(3) राइझोबियम (4) निल हरित शैवाल

Which of the following biofertilizer is added in rice fields ?

- (1) Red algae (2) Brown algae  
(3) Rhizobium (4) Blue green algae

43. जीवाणू खालीलपैकी \_\_\_\_\_ या यंत्रणेच्या माध्यमातून प्रतिजैविकांना प्रतिरोध करतात.

- अ. कोशिकांवरील रिसेप्टर्स मध्ये बदल करणे  
ब. एम.डी.आर. पंप  
क. वेगवेगळ्या एनझाइम्सचा स्राव जो प्रतिजैविकांना निष्क्रिय करतो

पर्यायी उत्तरे :

- (1) फक्त अ आणि ब (2) अ, ब आणि क  
(3) फक्त अ आणि क (4) फक्त ब आणि क

Mechanisms by which bacteria becomes resistant to antimicrobial agents are \_\_\_\_\_ .

- a. Alteration in surface receptors for drugs  
b. MDR pump  
c. Secretion of inactivating enzymes

**Answer Options :**

- (1) Only a and b (2) a, b and c  
(3) Only a and c (4) Only b and c

44. स्टॅफिलोकोकल खाद्य विषबाधा \_\_\_\_\_ होते.

- (1) आधी तयार केलेले एन्टरोटॉक्सिन अंतर्ग्रहण केल्यामुळे  
(2) विषाच्या निर्मितीनंतर श्लेष्मल पृष्ठभागाचे वसाहतकरण केल्यामुळे  
(3) स्थानिक विषाच्या निर्मितीनंतर जखमेचे किंवा गळुचे वसाहतकरण केल्यामुळे  
(4) वरील सर्व कारणांमुळे

Staphylococcal food poisoning is caused by \_\_\_\_\_ .

- (1) ingestion of preformed enterotoxin  
(2) colonisation of mucosal surface followed by production of toxin  
(3) colonisation of wound or abscess followed by local toxin production  
(4) All of the above reasons

45. राष्ट्रीय साल्मोनेला फाज टायपिंग केंद्र \_\_\_\_\_ येथे आहे.

- (1) लेडी हार्डिंग मेडिकल कॉलेज, नवी दिल्ली
- (2) मौलाना आझाद मेडिकल कॉलेज, नवी दिल्ली
- (3) नॅशनल इंस्टिट्यूट ऑफ कॉलरा अँड एन्टरीक डिजीजेस, कोलकाता
- (4) नॅशनल सेंटर फॉर डिजीज कंट्रोल

National Salmonella Phage Typing Centre is at \_\_\_\_\_.

- (1) Lady Hardinge Medical College, New Delhi
- (2) Maulana Azad Medical College, New Delhi
- (3) National Institute of Cholera and Enteric Disease, Kolkata
- (4) National Centre for Disease Control

46. प्रश्नचिन्ह स्तंभांच्या जागी ठेवण्यासाठी तर्कसंगत स्तंभ निवडा.

5	4	6	?
2	6	4	?
6	4	8	?
3	5	4	?

(1)

5
8
6
6

(2)

5
6
4
8

(3)

4
5
6
4

(4)

4
8
6
6

Select the logical column of digits for replacing the column of question marks.

5	4	6	?
2	6	4	?
6	4	8	?
3	5	4	?

(1)

5
8
6
6

(2)

5
6
4
8

(3)

4
5
6
4

(4)

4
8
6
6

47. प्रत्येक वाक्यातील रिकाम्या जागेत चपखल बसून दिलेल्या संदर्भात दोन स्वतंत्र व समान अर्थाची पूर्ण वाक्ये तयार करतील, अशी शब्दजोडी वा शब्दसमूह जोडी निवडा.

रोखे बाजार जोरदार कोसळल्यामुळे खरेदी-विक्री व्यवहार करतानाची त्या गुंतवणूकदाराची \_\_\_\_\_ मनःस्थिती विसंगत वाटत होती.

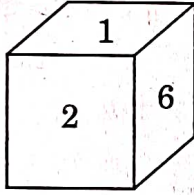
- (1) कमजोर आणि भकास (2) सांत्वनापलीकडची आणि उपरोधिक  
(3) आशावादी आणि आनंदी (4) कमजोर आणि उपरोधिक

Select the pair of words or word groups that fit in each of the sentences to make two separate and having equivalent meaning in the given context.

The stock market having plunged drastically, the investor's \_\_\_\_\_ mood on the trading floor seemed incongruous.

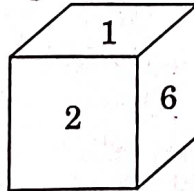
- (1) enervated and funereal (2) inconsolable and sardonic  
(3) sanguine and buoyant (4) enervated and sardonic

48. सहा पृष्ठांवर 1, 2, 3, 4, 5 आणि 6 संख्या असलेला सोबतचा घन अभ्यासा. 3 ही संख्या 1 किंवा 6 च्या विरुद्ध पृष्ठांवर नाही आणि 4 ही संख्या 6 च्या विरुद्ध पृष्ठांवर नाही. जर 1 ही संख्या वरच्या पृष्ठावर राहिल अशा रीतीने हा घन फिरवला आणि 6 संख्या असलेले उजवीकडचे पृष्ठ आताच्या 2 संख्या असलेल्या समोरच्या पृष्ठाच्या जागी आणले तर उजव्या पृष्ठावर कोणती संख्या असेल ?



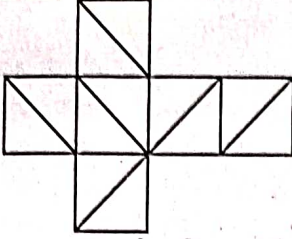
- (1) 5  
(2) 4  
(3) 3  
(4) निवडीसाठी अधिक माहितीची गरज आहे.

Study the accompanying cube with numbers 1, 2, 3, 4, 5 and 6 on its six faces. Number 3 is not opposite to either 1 or 6 and number 6 is not opposite to 4. If this cube is rotated so as to keep number 1 on the top and right side face with number 6 takes the front place that has number 2 now, then which number will be on the right face ?



- (1) 5  
(2) 4  
(3) 3  
(4) More information is needed for selection

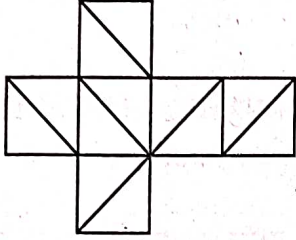
49. सोबतच्या जाळ्याची घडी घालून घनाकार मिळवला.



घनाच्या पृष्ठावरील दोन किंवा अधिक कर्ण रेषा जितक्या शिरोबिंदूत छेदतात त्यांची संख्या निवडा.

- (1) 2 (2) 3 (3) 4 (4) 5

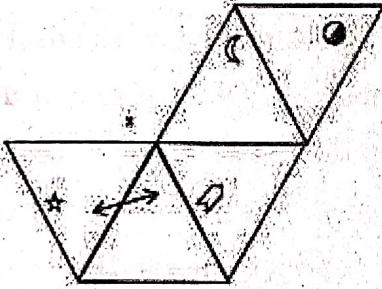
Accompanying net is folded to get a cube.



Select the number of vertices of the cube at which two or more diagonal lines on the faces meet.

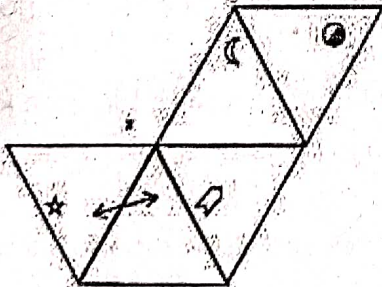
- (1) 2 (2) 3 (3) 4 (4) 5

50. सोबतचा पारदर्शक कागदाचा तुकडा X अभ्यासा आणि तो वापरून तयार केलेली घडी निवडा.



- (1) (2) (3) (4)

Study accompanying transparent sheet of paper X and select the fold that is made using it.



- (1) (2) (3) (4)



51. पूर्णतया वेगळी जीवनशैली असलेल्या तरुणांकडून होणाऱ्या मतदानाला लागलेली उतरती कळा प्रामुख्याने निवडणुकांत मतदात्यांच्या संख्येला लागलेल्या ओहोटीला कारणीभूत असल्याचे स्पष्टीकरण केले जाते. वयस्क लोक मतदान करण्याची शक्यता अधिक असते. जर हीच प्रथा चालू राहिली तर मतदात्यांची संख्या खूपच कमी असल्यामुळे बहुसंख्यांच्या इच्छा निर्देशित केल्या जाणार नाहीत आणि शासनाला प्रशासन करण्याचा अधिकार आहे असे म्हणता येणार नाही, अशा स्थितीला (आपण) पोहोचण्याची शक्यता आहे. लोकांच्या इच्छांची दखल घेतली जाण्यासाठी समाजाने पारंपरिक निवडणुकींना पर्याय शोधणे गरजेचे आहे.
- वरील युक्तिवादातील त्रुटी सर्वांत चांगल्या प्रकारे व्यक्त करणारा पर्याय निवडा.

- (1) निवडणूक ही सर्व लोकशाही देशांत शासन निवडीसाठी उत्तम प्रकारे प्रस्थापित झालेली एकमेव प्रक्रिया आहे.
- (2) निवडणुकीत मतदान करण्याऐवजी तरुण व्यक्ती सामाजिक माध्यमांच्या मदतीने दबाव गटांत सामील होण्याची शक्यता अधिक आहे.
- (3) दूरस्थ निवासी स्थानांमुळे महाजालाद्वारे वा पोष्टाद्वारे मतदानाचा पर्याय वापरण्यात समस्या येण्याची शक्यता आहे.
- (4) ज्या व्यक्ती आता तरुण आहेत त्या वय होता होता मतदान करण्याची शक्यता अधिक आहे.

The decline in voter turnout at elections is chiefly explained by the decline in voting by younger people who have very different lifestyles. Older people are much more likely to vote. If this trend continues, probably this will lead to a point at which no government can be said to have a mandate to govern as the number of voters will be too small to indicate the wishes of the majority. Society needs, therefore, to find an alternative to conventional elections so that the wishes of the people can be heard.

Select one option that best expresses the flaw in the above argument.

- (1) Elections are used in all democratic countries as the only well established process of choosing a government.
- (2) With the help of social media, young people may be more likely to join pressure groups than to vote in an election.
- (3) There may be problems in using alternatives such as internet and postal voting due to remote residential places.
- (4) People who are young now may become more likely to vote as they get older.

52. खालील प्रश्न दिलेल्या माहितीवर आधारित आहे.

- I. दक्षिणेकडे तोंड असलेल्या पाच व्यक्ती A, B, C, D आणि E, आणि उत्तरेकडे तोंड करून बसलेल्या पाच व्यक्ती M, N, O, P आणि Q परस्परांसमोर दोन समांतर रांगांमध्ये बसल्या आहेत.
- II. E हा O च्या समोर आहे, जो, M च्या उजवीकडे लागून आहे.
- III. C आणि N एकमेकांच्या समोर कर्णरेषेत आहेत.
- IV. B, जो D च्या डावीकडे लागून आहे, Q च्या समोर आहे.
- V. M हा रांगेच्या एका टोकाला आहे.
- VI. P, जो Q च्या डावीकडे लागून आहे, D च्या समोर आहे.

जर B हा E च्या जागेवर गेला, E हा Q च्या जागेवर गेला आणि Q हा B च्या जागेवर गेला, तर O च्या समोरील व्यक्तीच्या डावीकडून दुसरी व्यक्ती कोण असेल ?

- |       |       |
|-------|-------|
| (1) Q | (2) P |
| (3) E | (4) D |

The following question is based on the information given below :

- I. A, B, C, D and E are five persons sitting in a line facing South – while M, N, O, P and Q are five persons sitting in the second line parallel to the first line and facing North, facing each other.
- II. E is opposite to O who is just next, right of M.
- III. C and N are diagonally opposite to each other.
- IV. B who is just next to left of D, is opposite to Q.
- V. M is at one end of the line.
- VI. P who is just to the left of Q, is opposite to D.

If B shifts to the place of E, E shifts to the place of Q and Q shifts to the place of B, then who will be the second to the left of the person opposite to O ?

- |       |       |
|-------|-------|
| (1) Q | (2) P |
| (3) E | (4) D |

53. खालील प्रश्नात एक विधान आणि त्या अनुषंगाने येणारी दोन कारणे RI आणि RII दिलेली आहे. विधानासंदर्भात कारणांचे उपयोजन करून उत्तर शोधा.

विधान : हल्ली लोक खूप मोठ्या प्रमाणावर दूरस्थ खरेदी (teleshopping) करतात.

कारणे : RI – लोक मोठ्या प्रमाणात दूरदर्शन पाहतात.

RII – हल्ली लोकांना बाजारात जाऊन खरेदी करायला वेळ मिळत नाही.

पर्यायी उत्तरे :

- (1) संभवनीय कारण फक्त RI आहे RII नाही
- (2) संभवनीय कारण फक्त RII आहे RI नाही
- (3) संभवनीय कारण दोन्ही नसून फक्त RI किंवा RII आहे
- (4) संभवनीय कारण RI ही नाही किंवा RII ही नाही

In the following question, an Assertion followed by two Reasons RI and RII is given. Apply reasons to the Assertion and find the answer.

Assertion : People, these days, are doing a lot of teleshopping.

Reasons : RI – People are watching TV a lot.

RII – People, these days, are not finding time to shop in the market.

Answer options :

- (1) Only RI not RII is a possible reason
- (2) Only RII not RI is a possible reason
- (3) Either RI or RII but not both reasons
- (4) Neither RI nor RII is a possible reason

54. प्रसादने त्याच्या घरापासून सुरुवात करून उत्तरेकडे 8 कि.मी. प्रवास केला. नंतर त्याने उजवीकडे वळून 5 कि.मी. प्रवास केला. नंतर पुन्हा उजवीकडे वळून 4 कि.मी. प्रवास केला आणि नंतर पूर्वेकडे 3 कि.मी. प्रवास केला. शेवटी तो डावीकडे वळला आणि 2 कि.मी. प्रवास केला. तर तो त्याच्या घरापासून किती किलोमीटर अंतरावर आहे ?


- |        |        |
|--------|--------|
| (1) 14 | (2) 12 |
| (3) 10 | (4) 7  |

Prashant starts from his house and travels 8 km towards North. Then he turns right, travels 5 km, then turns right again and travels 4 km and then travels 3 km towards East. Finally he turns left and travels 2 km. How far is he from his house, in kilometers ?

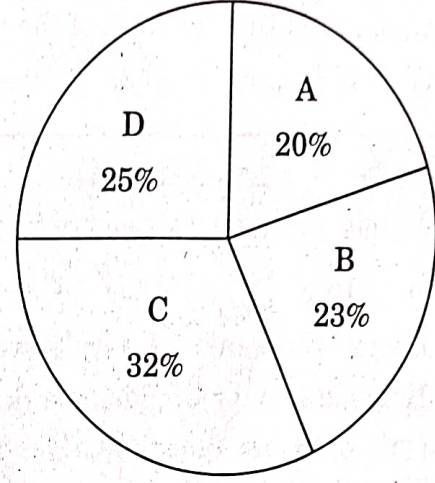
- |        |        |
|--------|--------|
| (1) 14 | (2) 12 |
| (3) 10 | (4) 7  |

कच्च्या कामासाठी जागा / SPACE FOR ROUGH WORK

55. A, B, C व D या चार खेड्यात राहणाऱ्या 6200 ग्रामस्थांवर त्यांच्या अतिप्रिय रंगासंदर्भात सर्वेक्षण केले. B खेड्यातील 50% लोकांचा लाल हा अतिप्रिय रंग आहे. तर इतर खेड्यातील किती लोकांचा तोच अतिप्रिय रंग आहे ?



अतिप्रिय रंग



विविध खेड्यात राहणारे लोक

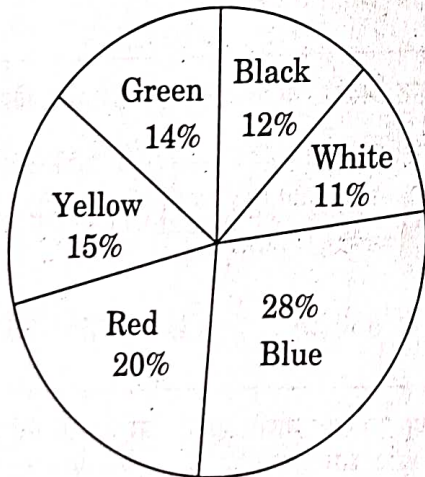
(1) 1240

(2) 527

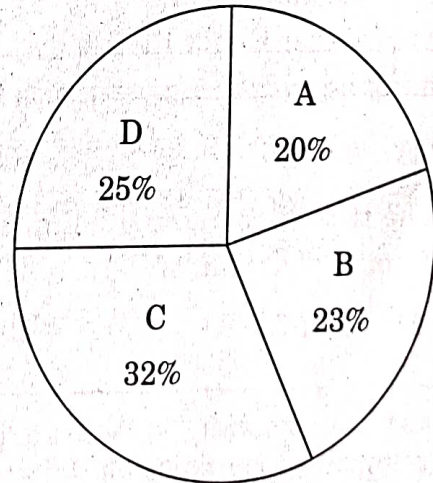
(3) 713

(4) 1426

A survey is conducted on 6200 villagers staying in 4 villages A, B, C and D and having various favourite colours. 50% of people from village B have red as their favourite colour. How many people from other villages have the same favourite colour ?



Favourite colours



People staying in various villages

(1) 1240

(2) 527

(3) 713

(4) 1426

56. जर 28 मी. व्यासाचे वर्तुळाकार मैदान असेल आणि त्या भोवती 7 मी. रुंद रस्ता असेल. तर रस्त्याचे क्षेत्रफळ किती ?

- (1) 616 चौ. मी. (2) 770 चौ. मी. (3) 1386 चौ. मी. (4) 28 चौ. मी.

If the diameter of a circular track is 28 m and there is a 7 m wide road around the track, then find the area of the road.

- (1) 616 sq. m (2) 770 sq. m (3) 1386 sq. m (4) 28 sq. m

57. शेतातील तण काढण्यासाठी 5 मजुरांना 12 दिवस लागतात. तेच काम करण्यासाठी 15 मजुरांना किती दिवस लागतील ?

- (1) 15 (2) 4 (3) 12 (4) 16

Five workers take 12 days to weed a field.

How many days would 15 workers take to do the same task ?

- (1) 15 (2) 4 (3) 12 (4) 16

58. तीन व्यक्तींच्या आजच्या वयांची बेरीज 72 वर्षे आहे व सात वर्षांपूर्वी त्यांच्या वयाचे गुणोत्तर 4 : 6 : 7 असे होते, तर त्यांचे आजचे वय किती ?

- (1) 20, 30, 22 वर्षे (2) 22, 24, 26 वर्षे  
(3) 19, 25, 28 वर्षे (4) 17, 25, 30 वर्षे

The sum of the present ages of 3 persons is 72 years. Seven years ago, their ages were in the ratio 4 : 6 : 7. What are their present ages ?

- (1) 20, 30, 22 years (2) 22, 24, 26 years  
(3) 19, 25, 28 years (4) 17, 25, 30 years

59. वार्षिक 6% दराने 10 महिन्यांच्या थकीत बिलावर ₹ 26.25 सूट मिळते. तर बिलाची एकूण रक्कम किती ?

- (1) ₹ 1575 (2) ₹ 500 (3) ₹ 650.25 (4) ₹ 551.25

The true discount on a bill due 10 months hence at 6% per annum is ₹ 26.25. The amount of the bill is

- (1) ₹ 1575 (2) ₹ 500 (3) ₹ 650.25 (4) ₹ 551.25

60. एका थैलीत एक-रुपया, 50 पैसे व 25 पैसे यांची 5 : 6 : 8 या प्रमाणात नाणी आहेत. जर त्यांची एकूण किंमत ₹ 420 असेल, तर 50 पैशांची किती नाणी आहेत ?

- (1) 210 (2) 126 (3) 252 (4) 70

A bag contains one-rupee, 50 paise and 25 paise coins in the ratio 5 : 6 : 8. If the total amount is ₹ 420, then the number of 50 paise coins is

- (1) 210 (2) 126 (3) 252 (4) 70

कच्च्या कामासाठी जागा / SPACE FOR ROUGH WORK

61. अमेरिकी अंतराळवीर क्रिस्टीना कोच या सर्वाधिक कालावधीची, अंतराळ मोहीम पार पाडणाऱ्या महिला अंतराळवीर ठरल्या आहेत. त्यांनी 328 दिवस अंतराळात व्यतित केले. म्हणजे कोच यांनी गेल्या वर्षी \_\_\_\_\_ रोजी, पृथ्वीवरून उड्डान केले होते.

- (1) 10 फेब्रुवारी, 2019 (2) 14 फेब्रुवारी, 2019  
(3) 14 मार्च, 2019 (4) 17 मार्च, 2019

American astronaut Christina Koch is the female astronaut spending longest period in space. She spent 328 days in space. On \_\_\_\_\_, she took off from Earth.

- (1) 10<sup>th</sup> February, 2019 (2) 14<sup>th</sup> February, 2019  
(3) 14<sup>th</sup> March, 2019 (4) 17<sup>th</sup> March, 2019

62. तेनसिंग नॉर्गे हा केंद्र सरकारचा राष्ट्रीय साहस पुरस्कार आणि महाराष्ट्राचा प्रतिष्ठेचा शिवछत्रपती थेट साहसी पुरस्कार पटकाविणारा साहसी जलतरणपटु प्रभात कोळीच्या कामगिरीची दखल गिनीज वर्ल्ड रिकॉर्डने घेतली आहे. त्याने आतापर्यंत जे सहा समुद्र पार केले त्यात खालील कोणत्या समुद्राचा समावेश नाही ?

- (1) इंग्लिश खाडी (2) कॅटलिना चॅनेल  
(3) जिब्रालची समुद्रधुनी (4) सुवेझ कालवा

Guinness World Records has taken note of adventure swimmer Prabhat Koli who has won the Central Government Tenzing Norgay National Award and Maharashtra State prestigious Shiv Chhatrapati Bravery Award. So far he has crossed six seas. Among the following, which one water body has he not crossed ?

- (1) English Channel (2) Catalina Channel  
(3) Strait of Gibraltar (4) Suez Canal

63. 'परम वीर चक्र' स्वातंत्र्यप्राप्तीपासून आजपर्यंतच्या 72 वर्षांत, सुमारे 130 कोटी लोकसंख्येच्या आपल्या देशात फक्त \_\_\_\_\_ जणांनाच हा बहुमान प्राप्त झाला आहे.

- (1) 24 (2) 42  
(3) 12 (4) 21

In the last 72 years after freedom, in our country of 130 crores population, only \_\_\_\_\_ persons have achieved the honour of 'Param Vir Chakra'.

- (1) 24 (2) 42  
(3) 12 (4) 21

64. आयुष्मान भारत योजनेअंतर्गत पुढील पर्यायांपैकी **अयोग्य (चुकीचा)** पर्याय निवडा.  
 अ. या योजनेचा लाभ 10 कोटीपेक्षा जास्त भारतीय परिवारांना होणार आहे.  
 ब. आयुष्मान कार्डधारकाच्या परिवाराला ₹ 5 लाखपर्यंत वैद्यकीय उपचार मोफत स्वरूपात दिला जाणार आहे.  
 क. या योजनेचा लाभ 30 कोटीपेक्षा जास्त भारतीय परिवारांना होणार आहे.  
 ड. या योजनेअंतर्गत 15 हजार खाजगी दवाखान्यांना जन आरोग्य मित्र असा दर्जा बहाल केला जाणार आहे.  
 पर्यायी उत्तरे :

- (1) फक्त ब (2) फक्त क  
 (3) फक्त अ आणि क (4) फक्त ब आणि ड

Select the **inappropriate (wrong)** option regarding Ayushman Bharat scheme.

- a. 10 crore Indian families will be benefited by this scheme.  
 b. Ayushman card holder family can avail medical treatment upto ₹ 5 lakh free of cost.  
 c. 30 crore Indian families will be benefited by this scheme.  
 d. 15 thousand Private Hospitals will get status of Jan Arogya Mitra by this scheme.

**Answer options :**

- (1) Only b (2) Only c  
 (3) Only a and c (4) Only b and d

65. माहिती तंत्रज्ञान क्षेत्राच्या प्रगतीमुळे दैनंदिन वापरात येणाऱ्या संकल्पना व त्यांचे पूर्ण स्वरूप व्यक्त करणारा योग्य पर्याय निवडा.

संकल्पना	सेवा विवरण
अ. यु.पी.आय. (UPI)	I. ज्ञानाचे कृत्रिम आदान-प्रदान
ब. ए.आय. (AI)	II. डिजिटल पेमेंट व्यवस्था
क. जी.इ.एम. (GeM)	III. वस्तुसाठी चे इंटरनेट
ड. आय.ओ.टी. (IoT)	IV. सरकारचे ऑनलाईन मंच

पर्यायी उत्तरे :

	अ	ब	क	ड
(1)	IV	I	II	III
(2)	III	IV	I	II
(3)	I	II	IV	III
(4)	II	I	IV	III

Choose the proper option which explains the concept and its utilization in daily life with advancement of Information Technology.

Concept	Utilization
a. UPI	I. Artificial Knowledge Exchange
b. AI	II. Digital payment system
c. GeM	III. Internet of things
d. IoT	IV. Online platform by the Government

**Answer options :**

	a	b	c	d
(1)	IV	I	II	III
(2)	III	IV	I	II
(3)	I	II	IV	III
(4)	II	I	IV	III

66. अखिल भारतीय मराठी नाट्य संमेलनांसंदर्भातील स्थळ, वर्ष व संमेलनाध्यक्ष यांचा योग्य क्रम सांगणारा अचूक पर्याय निवडा.

वर्ष व ठिकाण	संमेलनाध्यक्ष
अ. 2016 – ठाणे	I. जयंत सावरकर
ब. 2017 – उस्मानाबाद	II. प्रेमानंद गज्वी
क. 2018 – मुलुंड	III. किर्ती शिलेदार
ड. 2019 – नागपूर	IV. गंगाराम गवाणकर

पर्यायी उत्तरे :

	अ	ब	क	ड
(1)	III	II	IV	I
(2)	II	III	I	IV
(3)	IV	I	III	II
(4)	I	IV	II	III

Choose the option which explains the correct order of place, year and Chairperson regarding Akhil Bharatiya Marathi Natya Sammelan.

Year-Place	Chairperson
a. 2016 – Thane	I. Jayant Savarkar
b. 2017 – Osmanabad	II. Premanand Gajvi
c. 2018 – Mulund	III. Kirti Shiledar
d. 2019 – Nagpur	IV. Gangaram Gawankar

Answer options :

	a	b	c	d
(1)	III	II	IV	I
(2)	II	III	I	IV
(3)	IV	I	III	II
(4)	I	IV	II	III

67. केंद्रीय प्रदूषण नियंत्रण बोर्डच्या उपलब्ध सूचनेनुसार वर्ष 2018 – 19 च्या दरम्यान किती मेट्रिक टन ई-कचरा एकत्रित करून विघटित आणि पुनर्चक्रित करण्यात आला ?

- |                       |                       |
|-----------------------|-----------------------|
| (1) 69414 मेट्रिक टन  | (2) 164663 मेट्रिक टन |
| (3) 771215 मेट्रिक टन | (4) 708445 मेट्रिक टन |

How many metric tonnes (MT) of e-waste was decomposed and recycled during the year 2018 – 19 as per the Central Pollution Control Board's information ?

- |               |               |
|---------------|---------------|
| (1) 69414 MT  | (2) 164663 MT |
| (3) 771215 MT | (4) 708445 MT |



68.

ब्रिटेनच्या महाराणीचे 'क्वीन्स काउन्सिल' म्हणून कोणाची नियुक्ती झाली आहे ?

- (1) उज्ज्वल निकम (2) एल. नागेश्वर राव  
(3) हरीश साळवे (4) आर.एम. शिंदे

Who has been appointed as 'Queen's Counsel' of Queen of Britain ?

- (1) Ujjwal Nikam (2) L. Nageswara Rao  
(3) Harish Salve (4) R.M. Shinde

69.

द एरा ऑफ राइजिंग फिनटेकच्या डिजिटल भुगतान संबंधी रिपोर्ट खालीलप्रमाणे आहे.

- अ. डिजिटल भुगतानच्या वापरामध्ये कर्नाटक पहिल्या क्रमांकावर.  
ब. डिजिटल भुगतानच्या वापरामध्ये महाराष्ट्र दुसऱ्या क्रमांकावर.  
क. डिजिटलाइज्ड शहरांमध्ये बँगलुरु प्रथम स्थानांवर.  
ड. डिजिटलाइज्ड शहरांमध्ये हैदराबाद द्वितीय स्थानांवर.

वरीलपैकी कोणते वाक्य बरोबर आहेत ?

- (1) फक्त अ, ब आणि क (2) फक्त ब, क आणि ड  
(3) फक्त क, ड आणि अ (4) फक्त ड, अ आणि ब

The following is a report on digital payment by The Era of Rising Fintech.

- a. Karnataka ranks first in the use of digital payments.  
b. Maharashtra ranks second in the use of digital payments.  
c. Bengaluru ranks first in digitised cities.  
d. Hyderabad ranks second in digitised cities.

Which of the above sentences are correct ?

- (1) Only a, b and c (2) Only b, c and d  
(3) Only c, d and a (4) Only d, a and b

70.

उच्च शिक्षण संस्थांमध्ये नवनिर्माणाची संस्कृती रुजवण्यासाठी भारत सरकारने (मनुष्यबळ विकास मंत्रालय) प्रस्तावित केलेल्या इम्प्रिंट II (IMPRINT-II) योजनेमध्ये कोण सहभागी होऊ शकतात ?

- अ. खाजगी महाविद्यालयातील प्राध्यापक  
ब. आय.टी.आय. मधील प्राध्यापक  
क. आय.आय.टी., एन.आय.टी., आय.आय.आय.टी. मधील प्राध्यापक  
ड. आय.आय.टी., एन.आय.टी., आय.आय.आय.टी., आय.आय.एस.ई.आर. आणि सेंट्रल यूनिव्हर्सिटीतील प्राध्यापक

पर्यायी उत्तरे :

- (1) फक्त अ आणि ब (2) फक्त ड  
(3) फक्त अ, ब आणि क (4) फक्त क आणि ड

Who can participate in the Government of India (MHRD) proposed IMPRINT-II scheme to inculcate culture of innovation among higher education institutes ?

- a. Professors in Private Colleges  
b. Professors in ITI  
c. Professors in IIT, NIT, IIIT  
d. Professors in IIT, NIT, IIIT, IISER and Central Universities

Answer options :

- (1) Only a and b (2) Only d  
(3) Only a, b and c (4) Only c and d

71. अनुसूचित जाती व नवबौद्ध प्रवर्गातील विद्यार्थ्यांना शासकीय वसतिगृहामध्ये प्रवेश मिळालेला नाही, अशा विद्यार्थ्यांना मॅट्रीकोत्तर शिक्षण घेता यावे म्हणून भोजन, निवास व इतर शैक्षणिक सुविधा उपलब्ध करून घेण्यासाठी सरकारने \_\_\_\_\_ सुरू केली आहे.

- (1) पद्मश्री बाबा आमटे स्वाधार योजना
- (2) भारतरत्न डॉ. बाबासाहेब आंबेडकर स्वाधार योजना
- (3) कर्मवीर भाऊराव पाटील आधार योजना
- (4) सावित्रीबाई फुले आधार योजना

For students belonging to the Scheduled Castes and Neo Buddhist class who did not get admission in the Government hostels, to enable them to take post matric education, the Government has started \_\_\_\_\_ for their lodging, boarding and educational facilities.

- (1) Padmashree Baba Amte Swadhar Yojana
- (2) Bharat Ratna Dr. Babasaheb Ambedkar Swadhar Yojana
- (3) Karmaveer Bhaurao Patil Aadhar Yojana
- (4) Savitribai Phule Aadhar Yojana

72. आर्थिक दुर्बल घटकांसाठी 103 व्या घटनादुरुस्तीने 2019 मध्ये भारतीय राज्यघटनेच्या कलम 15(6) आणि 16(6) मध्ये पुढील तरतुदींचा समावेश करण्यात आला. योग्य पर्याय निवडा.

- अ. अनुसूचित जाती/जमाती व इतर मागासवर्गीयांसाठी असलेल्या योजनांचा ज्यांनी लाभ घेतलेला नाही त्यांना या आरक्षणाचा लाभ घेता येईल.
- ब. आर्थिक मागासवर्गीयांना 13% पर्यंत आरक्षणाचे प्रमाण राहिल.
- क. या आरक्षणाचा लाभ शैक्षणिक व नोकरीविषयक बाबींना लागू होईल.
- ड. आर्थिक मागासवर्गीयांना 10% पर्यंत आरक्षणाचे प्रमाण राहिल.
- वरीलपैकी कोणते वाक्य बरोबर आहेत ?

पर्यायी उत्तरे :

- (1) फक्त क आणि ड
- (2) अ, ब, क आणि ड
- (3) फक्त अ, क आणि ड
- (4) फक्त ब आणि क

For economically backward classes, by the 103<sup>rd</sup> Constitutional Amendment in 2019, Article 15(6) and 16(6) of the Indian Constitution, following provisions are made. Choose the correct option.

- a. This reservation can be availed by persons not benefiting by schemes for SC, ST, OBC.
  - b. The reservation proportion will be upto 13% for economically backward classes.
  - c. This reservation is for education and job related benefits.
  - d. The reservation proportion will be upto 10% for economically backward classes.
- Which of the above sentences are correct ?

Answer options :

- (1) Only c and d
- (2) a, b, c and d
- (3) Only a, c and d
- (4) Only b and c

73. 'मराठी काका' म्हणून प्रसिद्ध असलेले प्रा. अनिल गोरे यांना मराठी भाषा प्रसार व प्रचाराच्या संदर्भात देण्यात येणारा राज्य सरकारचा 2019 चा \_\_\_\_\_ हा पुरस्कार जाहिर झाला आहे.

- (1) कविवर्य वि.वा. शिरवाडकर
- (2) कविवर्य भा.रा. तांबे
- (3) कविवर्य मंगेश पाडगावकर
- (4) कादंबरीकार वि.स. खांडेकर

Prof. Anil Gore, known as 'Marathi Kaka', was awarded State Government \_\_\_\_\_ award 2019 for popularising Marathi language.

- (1) Poet V.V. Shirwadkar
- (2) Poet B.R. Tambe
- (3) Poet Mangesh Padgaonkar
- (4) Novelist V.S. Khandekar

74. आंतरराष्ट्रीय संघटना विकास संघ (आय.ओ.डी.ए.) चे जनरल व्हाईस प्रेसिडेंट म्हणून नियुक्त होणारे पहिले भारतीय कोण बनले आहे ?

- (1) राजेश रेड्डी
- (2) विनया शेटी
- (3) मोहित कुमार
- (4) निधि शर्मा

Who is the first Indian to be appointed as General Vice President of International Organisation Development Association (IODA) ?

- (1) Rajesh Reddy
- (2) Vinaya Shetty
- (3) Mohit Kumar
- (4) Nidhi Sharma

75. भारतीय अंतराळ संशोधन संस्था (ISRO) डिसेंबर 2020 मध्ये कोणती मानवरहित मोहिम अंतराळात पाठवणार आहे ?

- (1) गगनयान
- (2) व्योम मित्रा
- (3) रोबोनाऊट
- (4) फेडॉर

The Indian Space Research Organization (ISRO) will launch an unmanned campaign in December 2020.

- (1) Gaganyaan
- (2) Vyom Mitra
- (3) Robonaut
- (4) Fedor

76. खालील विधानांपैकी कोणते विधान योग्य आहे ?

- (1) संविधान सभेच्या 288 सदस्यांनी 26 जानेवारी, 1950 रोजी राज्यघटनेवर स्वाक्ष्या केल्या.
- (2) 'कायद्याने घालून दिलेली पद्धती' हे तत्त्व अमेरिकेच्या राज्यघटनेकडून स्विकारले गेले आहे.
- (3) 'संसदेच्या दोन्ही सभागृहांची संयुक्त बैठक' ही कल्पना ब्रिटीश राज्यघटनेकडून घेतली आहे.
- (4) वरीलपैकी एकही नाही

Which one of the following statements is correct ?

- (1) On 26<sup>th</sup> January, 1950, 288 members of the Constituent Assembly signed the Constitution.
- (2) 'Procedure established by Law' was adopted from the Constitution of the United States of America.
- (3) The idea of 'Joint sitting of two Houses of Parliament' was taken from the British Constitution.
- (4) None of the above

77. भारतीय राज्यघटनेच्या 'सरनाम्या' विषयी खालील विधाने विचारात घ्या :
- अ. सरनामा हा राज्यघटनेला जे प्रस्थापित आणि प्रचारित करावयाचे आहे ती उद्दिष्टे कथन करतो आणि त्यामधील भाषा जेथे जेथे संदिग्ध असल्याचे आढळते, तेथे तेथे घटनेचा वैधानिक अर्थ निरूपण करण्यास सहाय्य करतो.
- ब. संविधान सभेने ज्याप्रमाणे राज्यघटनेच्या इतर भागास कायदेशीर मान्यता दिली आहे, तशी ती 'सरनाम्यास' दिलेली नाही.

पर्यायी उत्तरे :

- (1) विधान अ बरोबर
- (2) विधान ब बरोबर
- (3) दोन्हीही विधाने बरोबर
- (4) दोन्हीही विधाने चुकीची

Consider the following statements about the 'Preamble' of the Indian Constitution :

- a. It states the objects which the Constitution seeks to establish and promote and also aids the legal interpretation of the Constitution where the language is found to be ambiguous.
- b. Like any other part of the Constitution, the 'Preamble' was not enacted by the Constituent Assembly.

Answer options :

- (1) Statement a is correct
- (2) Statement b is correct
- (3) Both the statements are correct
- (4) Both the statements are incorrect

78. प्रा. के.सी. व्हिअर यांच्या निरीक्षणानुसार खालील विधानांपैकी कोणत्या विधानातून भारतीय संघराज्य पद्धतीचे खरे स्वरूप व्यक्त होते ?
- (1) भारतीय संघराज्य हे संस्थात्मक संकल्पनेपेक्षा अधिक क्रियात्मक आहे.
  - (2) एक पक्षीय प्रभावी राजवट ही संघराज्यवादाच्या तत्वाशी संघर्ष करणारी ठरली.
  - (3) भारतीय संघराज्य हे घटकांमधील कराराचा परिणाम नाही.
  - (4) एकात्म राज्याची दुय्यम वैशिष्ट्ये असलेल्या संघराज्यापेक्षा ते संघराज्याची दुय्यम वैशिष्ट्ये असलेले एकात्म राज्य आहे.

As observed by Prof. K.C. Wheare, which one of the following statements correctly shows the true nature of the Indian Federal System ?

- (1) The Indian Federation is more a functional than an institutional concept.
- (2) A one dominant party regime which is in conflict with the principles of federalism.
- (3) The Indian federation is not the result of an agreement between the units.
- (4) It is a unitary state with subsidiary federal features rather than a federal state with subsidiary unitary features.

79. खालील विधाने विचारात घ्या :

- अ. ग्रामसभेचे कार्यवृत्त व इतर संबंधित अभिलेख सुरक्षित, अभिरक्षेत ठेवणे आणि त्यांची योग्य ती सुरक्षितता राखणे ही सरपंच आणि उपसरपंच यांची संयुक्त जबाबदारी असते.
- ब. प्रत्येक वित्तीय वर्षातील ग्रामसभेची पहिली बैठक ते वित्तीय वर्ष सुरू झाल्यापासून दोन महिन्यांच्या आत भरवली पाहिजे.

पर्यायी उत्तरे :

- (1) विधान अ बरोबर
- (2) विधान ब बरोबर
- (3) दोन्हीही विधाने बरोबर
- (4) दोन्हीही विधाने चुकीची

Consider the following statements :

- a. It is a joint responsibility of the Sarpanch and Upa Sarpanch to maintain secured custody and proper safety of proceeding register and other relevant records of the Gram Sabha.
- b. The first meeting of the Gram Sabha in every financial year shall be held within two months from the commencement of that year.

Answer options :

- (1) Statement a is correct
- (2) Statement b is correct
- (3) Both the statements are correct
- (4) Both the statements are incorrect

80. खालील विधाने विचारात घ्या :

- अ. ग्रामपंचायतीचा कोणताही ठराव, त्या ठरावाच्या संमत झाल्याच्या तारखेपासून तीन महिन्यांनंतर दुसरा ठराव साध्या बहुमताने संमत करून त्यात फेरबदल, सुधारणा, फेरफार करता येईल अथवा तो रद्द करता येईल.
- ब. ग्रामपंचायतीने आपल्या सदस्यांच्या एकूण संख्येच्या दोन-तृतीयांश इतक्या सदस्यांनी पाठींबा दिलेल्या ठरावा खेरीज, इतर कोणत्याही रीतीने पंचायतीच्या कोणत्याही ठरावात तो संमत झाल्याच्या तारखेपासून तीन महिन्यांच्या आत फेरबदल, सुधारणा, फेरफार करता येणार नाही अथवा तो रद्द करता येणार नाही.

पर्यायी उत्तरे :

- |                           |                            |
|---------------------------|----------------------------|
| (1) विधान अ बरोबर         | (2) विधान ब बरोबर          |
| (3) दोन्हीही विधाने बरोबर | (4) दोन्हीही विधाने चुकीची |

Consider the following statements :

- a. Any resolution of Gram Panchayat shall be modified, amended, varied or cancelled by a Panchayat after a period of three months from the date of the passing thereof by another resolution supported by simple majority.
- b. No resolution of Gram Panchayat shall be modified, amended, varied or cancelled by a Panchayat within a period of three months from the date of the passing thereof, except by a resolution supported by two-third of the total number of members of such Panchayat.

Answer options :

- |                                     |                                       |
|-------------------------------------|---------------------------------------|
| (1) Statement a is correct          | (2) Statement b is correct            |
| (3) Both the statements are correct | (4) Both the statements are incorrect |

81. कोणत्या तत्वातून न्यायसंस्थेच्या प्रशासकीय कृतीवरील नियंत्रणाचा उगम होतो ?

- |                            |                     |
|----------------------------|---------------------|
| (1) न्यायालयीन पुनर्विलोकन | (2) कायद्याचे राज्य |
| (3) प्रदत्त विधिनियम       | (4) सत्ता विभाजन    |

The judicial control over administrative actions emanates from the Doctrine of

- |                           |                          |
|---------------------------|--------------------------|
| (1) Judicial Review       | (2) Rule of Law          |
| (3) Delegated Legislation | (4) Separation of Powers |

82.

राज्यपाल यांच्या संबंधी 'पूछी' आयोगाच्या शिफारशीबाबत खालीलपैकी कोणती शिफारस ही चुकीची नमूद करण्यांत आलेली आहे ?

- (1) त्यांना मंत्रीमंडळाच्या सल्ल्याशिवाय अथवा सल्ल्याविरुद्ध, कार्यरत असणाऱ्या किंवा निवृत्त झालेल्या मंत्र्यावर खटला चालविण्यास मंजूरी देण्याचा अधिकार असावा.
- (2) ते राज्य विधानसभेने मंजूर केलेल्या महाभियोगाच्या ठरावाने पदावरून दूर केले जावू शकतील.
- (3) ते राज्यसभेने मंजूर केलेल्या महाभियोगाच्या ठरावाने आणि त्या ठरावास लोकसभेने मान्यता दिल्यास पदावरून दूर केले जावू शकतील.
- (4) राज्यघटनेच्या अनुच्छेद - 163 मध्ये असा बदल करण्यात यावा की, ते त्यांना असलेले स्वेच्छाधीन अधिकार मनमानी पद्धतीने वापरू शकणार नाहीत.

Which of the following has been *wrongly* listed as a recommendation of the 'Punchhi' Commission with regard to the Governor ?

- (1) He should have the power to sanction prosecution of a working or retired minister without or against the advice of Council of Ministers.
- (2) He may be removed by a resolution of impeachment passed by the State Legislative Assembly.
- (3) He may be removed by resolution of impeachment passed by the Rajya Sabha and agreed to by the Lok Sabha.
- (4) Article - 163 of the Constitution should be amended in a way that he may not be able to exercise his discretionary powers in an arbitrary manner.

83.

राष्ट्रीय ग्राम स्वराज अभियान (RGSA) काय आहे ?

- (1) पंचायत राज संस्थांना ग्राम पंचायत विकास आराखडा करण्यास सक्षम करणारी योजना
- (2) नियमित ग्राम सभा आणि त्यांचे नोंदी ठेवण्यास प्रोत्साहन देणारी योजना
- (3) गावाच्या पातळीवर मतदान वाढविण्याची योजना
- (4) सरपंचाची थेट निवड करण्यास प्रोत्साहन देणारी योजना

What is Rashtriya Gram Swaraj Abhiyan (RGSA) ?

- (1) It is a scheme aimed to enable Panchayat Raj institutions to prepare Gram Panchayat Development plans
- (2) It is a scheme for promoting regular Gram Sabha and their records
- (3) It is a scheme for increasing voting at village level
- (4) It is a scheme for promoting direct election of the Sarpanch



84. खालील विधाने विचारात घ्या :

- अ. लोकलेखा समितीमध्ये 7 सदस्य राज्यसभेचे सदस्य असतात.  
 ब. लोकसभेच्या दैनंदिन कामकाज पहाणाऱ्या नियमात असे नमूद करण्यात आले आहे की विरोधी पक्षाचा सदस्यच लोकलेखा समितीचा अध्यक्ष असेल.

वरील विधानांपैकी *असत्य* विधान/ने कोणते आहे/त ?

- (1) फक्त अ  
 (2) फक्त ब  
 (3) अ आणि ब दोन्ही  
 (4) कोणतेही नाही



**MPSC LIVE DIGITAL MAGAZINE**

1.स्पर्धा परिक्षा मार्गदर्शन 2.सराव प्रश्न संच 3.चालू घडामोडी 4.विडिओ लेक्चर 5.आणि बरेच काही..!  
 वरील सर्व माहिती WHATSAPP वर मिळवण्यासाठी

आजच आमच्या WHATSAPP क्रमांकावर  
 'JOIN' मेसेज पाठवा.

**9028 59 61 57**

Consider the following statements :

- a. Public Accounts Committee has seven members of the Rajya Sabha.  
 b. It is mentioned in the rules of day-to-day business of Lok Sabha that a member of opposition will be the chairperson of Public Accounts Committee.

Which is/are the *incorrect* statements from the above ?

- (1) Only a  
 (2) Only b  
 (3) Both a and b  
 (4) None of the above

85. भारताचे प्रथम लोकपाल म्हणून यांची नियुक्ती झाली.

- (1) न्यायमूर्ती दीपक मिश्रा  
 (2) न्यायमूर्ती टी.एस. ठाकूर  
 (3) न्यायमूर्ती पिनाकी चंद्रघोष  
 (4) न्यायमूर्ती जगदीश सिंग खेहर

First Lokpal of India is

- (1) Justice Dipak Misra  
 (2) Justice T.S. Thakur  
 (3) Justice Pinaki Chandra Ghose  
 (4) Justice Jagdish Singh Khehar

कच्च्या कामासाठी जागा / SPACE FOR ROUGH WORK

86. \_\_\_\_\_ यांनी नाशिक येथे 'ग्रंथोत्तेजक मंडळी' नावाची संस्था स्थापन केली होती.

- (1) वि.दा. सावरकर (2) वि.वा. शिरवाडकर  
(3) न्यायमूर्ती रानडे (4) अनंत लक्ष्मण कान्हेरे

\_\_\_\_\_ started an association by the name 'Granthottejak Mandal' at Nashik.

- (1) V.D. Savarkar (2) V.V. Shirwadkar  
(3) Justice Ranade (4) Anant Laxman Kanhere

87. 1885 ते 1915 या काळात \_\_\_\_\_ हे मुंबईचा अनभिषिक्त राजा म्हणून ओळखले जात.

- (1) जगन्नाथ शंकर शेट (2) भाऊ दाजी लाड  
(3) दादाभाई नौरोजी (4) फिरोजशाह मेहता

During the period 1885 to 1915 \_\_\_\_\_ was known as the uncoronated king of Bombay.

- (1) Jagannath Shankar Sheth (2) Bhau Daji Lad  
(3) Dadabhai Naoroji (4) Pherozeshah Mehta

88. खालीलपैकी कोणत्या व्यक्तींनी प्रार्थना समाजाच्या माध्यमातून धार्मिक व सामाजिक सुधारणांचे कार्य केले होते ?

- अ. डॉ. आत्माराम पांडुरंग, डॉ. आर.जी. भांडारकर  
ब. वामन आबाजी मोडक, नारायण गणेश चंदावरकर  
क. विठ्ठल रामजी शिंदे, न्यायमूर्ती महादेव गोविंद रानडे  
ड. गोविंद विठ्ठल कुंटे, राव साहेब मंडलीक

पर्यायी उत्तरे :

- (1) फक्त अ, ब आणि ड (2) फक्त अ, ब आणि क  
(3) फक्त ब, क आणि ड (4) फक्त अ आणि ब

Who from the following have worked for religious and social reforms through Prarthana Samaj ?

- a. Dr. Atmaram Pandurang, Dr. R.G. Bhandarkar  
b. Vaman Abaji Modak, Narayan Ganesh Chandavarkar  
c. Vitthal Ramji Shinde, Justice Mahadev Govind Ranade  
d. Govind Vitthal Kunte, Rao Saheb Mandlik

Answer options :

- (1) Only a, b and d (2) Only a, b and c  
(3) Only b, c and d (4) Only a and b

89. खालीलपैकी कोणत्या ठिकाणी 12 मे, 1875 रोजी शेतकऱ्यांनी पहिला उठाव केला होता ?  
 (1) पुणे (2) सुपे (3) अहमदनगर (4) सोलापूर

Where did the first revolt of farmers take place on 12<sup>th</sup> May, 1875 ?  
 (1) Pune (2) Supe (3) Ahmednagar (4) Solapur

90. खालील जोड्या जुळवा :

1857 च्या उठावाची केंद्रे		नेते	
अ. पेठ		I. वैकप्पा नाईक बळवंत बेहरी	
ब. नरगुंद		II. रामचंद्र पटवर्धन	
क. जमखिंडी		III. बाबासाहेब भावे	
ड. सोरापूर		IV. भगवंतराव कोळी	

पर्यायी उत्तरे :

	अ	ब	क	ड
(1)	IV	III	II	I
(2)	IV	II	III	I
(3)	IV	I	II	III
(4)	IV	I	III	II

Match the following :

Centres of the Revolt of 1857	Leaders
a. Peth	I. Vaikappa Naik Balwant Behari
b. Nargund	II. Ramchandra Patwardhan
c. Jamkhandi	III. Babasaheb Bhawe
d. Shorapur	IV. Bhagwantrao Koli

Answer options :

	a	b	c	d
(1)	IV	III	II	I
(2)	IV	II	III	I
(3)	IV	I	II	III
(4)	IV	I	III	II

91. वसाहतीच्या स्वातंत्र्याची मागणी म्हणजे 'चांदोबाची' मागणी असे \_\_\_\_\_ म्हणाले.

(1) लॉर्ड डलहौसी	(2) लॉर्ड रिपन
(3) विलियम जोन्स	(4) लॉर्ड मोर्ले

The demand for freedom for the colonies was like asking for the moon, said \_\_\_\_\_ .

(1) Lord Dalhousie	(2) Lord Ripon
(3) William Jones	(4) Lord Morley

92. लॉर्ड डलहौसीच्या कारकिर्दीत भारतात पहिली टेलिग्राफ लाईन \_\_\_\_\_ ते \_\_\_\_\_ पर्यंत टाकली गेली.

- (1) कलकत्ता ते दिल्ली (2) मद्रास ते दिल्ली  
(3) कलकत्ता ते मद्रास (4) कलकत्ता ते आग्रा

The first telegraph line was laid from \_\_\_\_\_ to \_\_\_\_\_ during Lord Dalhousie's time.

- (1) Calcutta to Delhi (2) Madras to Delhi  
(3) Calcutta to Madras (4) Calcutta to Agra

93. 1875 मध्ये कामगारांना एकत्रित करून त्यांची कामगार संघटना स्थापना करण्यासाठी पुढीलपैकी कोणती व्यक्ती आघाडीवर होती ?

- (1) नारायण मेघाजी लोखंडे (2) नारायण राव पवार  
(3) शापुरजी बंगाली (4) सोराबजी शापुरजी

Who from the following was in the forefront to unite the workers to form their association in 1875 ?

- (1) Narayan Meghaji Lokhande (2) Narayan Rao Pawar  
(3) Shapurji Bengali (4) Sorabji Shapurji

94. मुंबई सरकारने खालीलपैकी कोणाच्या अध्यक्षतेखाली रेल्वे मंडळाची स्थापना केली होती ?

- (1) लेफ्टनंट प्रेसकॉट (2) लॉर्ड डलहौजी  
(3) लॉर्ड एलफिन्स्टन (4) लेफ्टनंट नेल्सन

Under whose chairmanship did the Bombay Government establish the Railway Board ?

- (1) Lieutenant Prescott (2) Lord Dalhousie  
(3) Lord Elphinstone (4) Lieutenant Nelson

95. चुकीची जोडी ओळखा :

- (1) सरलादेवी चौधुरानी — द ऑल इंडिया वुमेन्स कौन्सिल  
(2) डॉ. अनी बेझंट — द वुमेन्स इंडियन असोशिएशन  
(3) मेहरबाई टाटा — द नॅशनल कौन्सिल ऑफ वुमेन इन इंडिया  
(4) मार्गरेट कझिन्स — द ऑल इंडिया वुमेन्स कॉन्फरन्स

Find out the *wrong* pair :

- (1) Sarala Devi Chaudhurani — The All India Women's Council  
(2) Dr. Annie Besant — The Women's Indian Association  
(3) Meherbai Tata — The National Council of Women in India  
(4) Margaret Cousins — The All India Women's Conference

A14

38

96. वर्ष 1820 मध्ये कोणत्या संस्थेने बंगाली मुलींची शाळा कलकत्ता येथे सुरू केली ?

- (1) कलकत्ता फिमेल जूव्हेनाईल सोसायटी
- (2) ब्रिटिश फॉरेन स्कुल सोसायटी
- (3) सोसायटी फॉर नेटिव्ह फिमेल एज्युकेशन
- (4) स्कॉटिश मिशन

Which society started a school for Bengali girls in Calcutta in the year 1820 ?

- (1) Calcutta Female Juvenile Society
- (2) British Foreign School Society
- (3) Society for Native Female Education
- (4) Scottish Mission

97. \_\_\_\_\_ हे उत्तर भारतातील 'वहाबी' आंदोलनाचे केंद्र होते.

- (1) पटना
- (2) दिल्ली
- (3) फिरोजपूर
- (4) अलीगढ

\_\_\_\_\_ was the centre of 'Wahabi' movement in North India.

- (1) Patna
- (2) Delhi
- (3) Firozpur
- (4) Aligarh

98. पुणे येथील मुलींची शाळा चालविण्यासाठी जोतीबा फुले यांना खालीलपैकी कोणत्या व्यक्तींनी सहकार्य केले होते ?

- अ. सखाराम यशवंत परांजपे, सदाशिव गोविंद हाटे
- ब. सदाशिवराव बल्लाळ गोवंडे, मोरो विठ्ठल वाळवेकर
- क. विष्णूपंत थत्ते, केशव शिवराम भवाळकर
- ड. काशीराव देशमुख, हरिभाऊ चव्हाण

पर्यायी उत्तरे :

- (1) फक्त अ, ब आणि क
- (2) फक्त अ, क आणि ड
- (3) फक्त अ आणि ब
- (4) फक्त क आणि ड

Who from the following persons helped Jyotiba Phule to run a Girls School in Pune ?

- a. Sakharam Yashwant Paranjpe, Sadashiv Govind Hate
- b. Sadashivrao Ballal Govande, Moro Vitthal Walvekar
- c. Vishnupant Thatte, Keshav Shivram Bhawalkar
- d. Kashirao Deshmukh, Haribhau Chavan

Answer options :

- (1) Only a, b and c
- (2) Only a, c and d
- (3) Only a and b
- (4) Only c and d

कच्च्या कामासाठी जागा / SPACE FOR ROUGH WORK

99. खालील जोड्या जुळवा :

- |                         |                            |
|-------------------------|----------------------------|
| अ. परमहंस मत प्रसंशा    | I. गुजाबा जोशी पुणेकर      |
| ब. विचार लहरी           | II. कृष्णशास्त्री चिपळूणकर |
| क. शाक्त पंथाचे अनुयायी | III. मोरभट दांडेकर         |
| ड. दादोबा पांडुरंग      | IV. धर्म विवेचन            |

पर्यायी उत्तरे :

- |     | अ  | ब   | क   | ड   |
|-----|----|-----|-----|-----|
| (1) | I  | III | IV  | II  |
| (2) | I  | II  | III | IV  |
| (3) | II | I   | IV  | III |
| (4) | IV | III | II  | I   |

Match the following :

- |                               |                               |
|-------------------------------|-------------------------------|
| a. Paramahansa Mata Prasamsha | I. Gujaba Joshi Punekar       |
| b. Vichar Lahari              | II. Krushnashastri Chiplunkar |
| c. Follower of Sakta sect     | III. Morbhat Dandekar         |
| d. Dadoba Pandurang           | IV. Dharma Vivechan           |

Answer options :

- |     | a  | b   | c   | d   |
|-----|----|-----|-----|-----|
| (1) | I  | III | IV  | II  |
| (2) | I  | II  | III | IV  |
| (3) | II | I   | IV  | III |
| (4) | IV | III | II  | I   |

100. ज्या दिवशी लोकमान्य टिळकांचे निधन झाले त्याच दिवशी गांधीजींच्या \_\_\_\_\_ चळवळीचे उद्घाटन मुंबईत झाले होते.

- |                    |               |
|--------------------|---------------|
| (1) सविनय कायदेभंग | (2) असहकार    |
| (3) दारू विरोधी    | (4) भारत छोडो |

The day Lokmanya Tilak passed away, the same day Gandhiji's \_\_\_\_\_ movement was launched in Bombay.

- |                        |                     |
|------------------------|---------------------|
| (1) Civil Disobedience | (2) Non-Cooperation |
| (3) Anti Liquor        | (4) Quit India      |

## सूचना — (पृष्ठ 1 वरून पुढे.....)

- (8) प्रश्नपुस्तिकेमध्ये विहित केलेल्या विशिष्ट जागीच कच्चे काम (रफ वर्क) करावे. प्रश्नपुस्तिकेव्यतिरिक्त उत्तरपत्रिकेवर वा इतर कागदावर कच्चे काम केल्यास ते काँपी करण्याच्या उद्देशाने केले आहे, असे मानले जाईल व त्यानुसार उमेदवारावर शासनाने जारी केलेल्या “परीक्षांमध्ये होणाऱ्या गैरप्रकारांना प्रतिबंध करण्याबाबतचे अधिनियम-82” यातील तरतुदीनुसार कारवाई करण्यात येईल व दोषी व्यक्ती कमाल एक वर्षाच्या कारावासाच्या आणि/किंवा रुपये एक हजार रकमेच्या दंडाच्या शिक्षेस पात्र होईल.
- (9) सदर प्रश्नपत्रिकेसाठी आयोगाने विहित केलेली वेळ संपल्यानंतर उमेदवाराला ही प्रश्नपुस्तिका स्वतःबरोबर परीक्षाकक्षाबाहेर घेऊन जाण्यास परवानगी आहे. मात्र परीक्षाकक्षाबाहेर जाण्यापूर्वी उमेदवाराने आपल्या उत्तरपत्रिकेचा भाग-1 समवेक्षकाकडे न विसरता परत करणे आवश्यक आहे.

## नमुना प्रश्न

प्र. क्र. 201. सतीची चाल नष्ट करण्यासाठी कोणी मूलतः प्रयत्न केले ?

- |                           |                           |
|---------------------------|---------------------------|
| (1) स्वामी दयानंद सरस्वती | (2) ईश्वरचंद्र विद्यासागर |
| (3) राजा राममोहन रॉय      | (4) गोपाळकृष्ण गोखले      |

ह्या प्रश्नाचे योग्य उत्तर “(3) राजा राममोहन रॉय” असे आहे. त्यामुळे या प्रश्नाचे उत्तर “(3)” होईल. यास्तव खालीलप्रमाणे प्रश्न क्र. 201 समोरील उत्तर-क्रमांक “(3)” हे वर्तुळ पूर्णपणे छायांकित करून दाखविणे आवश्यक आहे.

प्र. क्र. 201.      ①      ②      ●      ④

अशा पद्धतीने प्रस्तुत प्रश्नपुस्तिकेतील प्रत्येक प्रश्नाचा तुमचा उत्तर-क्रमांक हा तुम्हाला स्वतंत्ररीत्या पुरविलेल्या उत्तरपत्रिकेवरील त्या त्या प्रश्नक्रमांकासमोरील संबंधित वर्तुळ पूर्णपणे छायांकित करून दाखवावा. ह्याकरिता फक्त काळ्या शाईचे बॉलपेन वापरावे, पेन्सिल वा शाईचे पेन वापरू नये.

कच्च्या कामासाठी जागा / SPACE FOR ROUGH WORK



## MPSC LIVE DIGITAL MAGAZINE

1.स्पर्धा परिक्षा मार्गदर्शन 2.सराव प्रश्न संच 3.चालू घडामोडी 4.व्हिडिओ लेक्चर 5.आणि बरेच काही..!  
वरील सर्व माहिती WHATSAPP वर मिळवण्यासाठी

आजच आमच्या WHATSAPP क्रमांकावर  
'JOIN' मेसेज पाठवा.

**9028 59 61 57**

# स्पेशल चालू घडामोडी



## टेस्ट सिरिज-2021



पोलीस भरती

एकुण  
25 टेस्ट

आरोग्य भरती

संदर्भ ग्रंथ  
व स्रोत

2500+  
प्रश्नांचा सराव

महाराष्ट्राच्या  
विशेष संदर्भासह

- शासनाच्या अधिकृत वेबसाईट.
- शासनाचे अधिकृत दस्तऐवज.
- प्रसिद्ध वर्तमानपत्रे, क्रीडा व पुरस्कार.
- शासकीय योजना व नियुक्त्या.
- राष्ट्रीय, आंतरराष्ट्रीय व प्रादेशिक घडामोडीवर दर्जेदार प्रश्न.

शुल्क

99/-

फक्त

टेस्ट जॉईन करण्यासाठी पुढील नंबर वर  
Phone Pay | G-Pay ने पेमेंट केल्यावर  
स्क्रीन शॉट पाठवा. व लगेच PDF टेस्ट मिळवा.



पे

7796505157



सहाद्री इन्स्टिट्यूट, नाशिक

स्पर्धा परीक्षा मार्गदर्शन संस्था



MPSC  
LIVE

यांच्या संयुक्त उपक्रम



# मेगा पोलीस भरती

## अति संभाव्य टेस्ट सिरीज - 2021

हमखास यशा साठी अनिवार्य

New Pattern

शुल्क  
99/-

- एकूण 30 टेस्ट व सोबत 10 विषयाच्या **IMP** नोट्स संपूर्ण अभ्यास क्रमानुसार
- सर्व टेस्ट **PDF** स्वरूपात व्हाट्स अँप ला दिल्या जातील
- टेस्ट सिरीज संपूर्ण नवीन पॅटर्नवर आधारित असेल
- 90% प्रश्न याच टेस्ट मधून येण्याची शक्यता
- वाढत्या काठिण्य पातळीचा बहुपर्यायी बहुविधानात्मक प्रश्नाचा समावेश



टेस्ट जॉईन करण्यासाठी खालील नंबर वर फोन **Phone Pay | G-Pay** ने पेमेंट केल्यावर स्क्रीन शॉट पाठवा. व लगेच PDF टेस्ट मिळवा.



YouTube वर विशेषण



7796505157



**MPSC LIVE व**  
**सह्याद्री इन्स्टिट्यूट, नाशिक**  
स्पर्धा परीक्षा मार्गदर्शन संस्था  
यांच्या संयुक्त उपक्रम



**MPSC LIVE DIGITAL MAGAZINE**

1.स्पर्धा परीक्षा मार्गदर्शन 2.सराव प्रश्न संच 3.चालू घडामोडी 4.व्हिडिओ लेक्चर 5.आणि बरेच काही...!  
वरील सर्व माहिती WHATSAPP वर मिळवण्यासाठी

आजच आमच्या WHATSAPP क्रमांकावर  
'JOIN' मेसेज पाठवा.

**9028 59 61 57**

